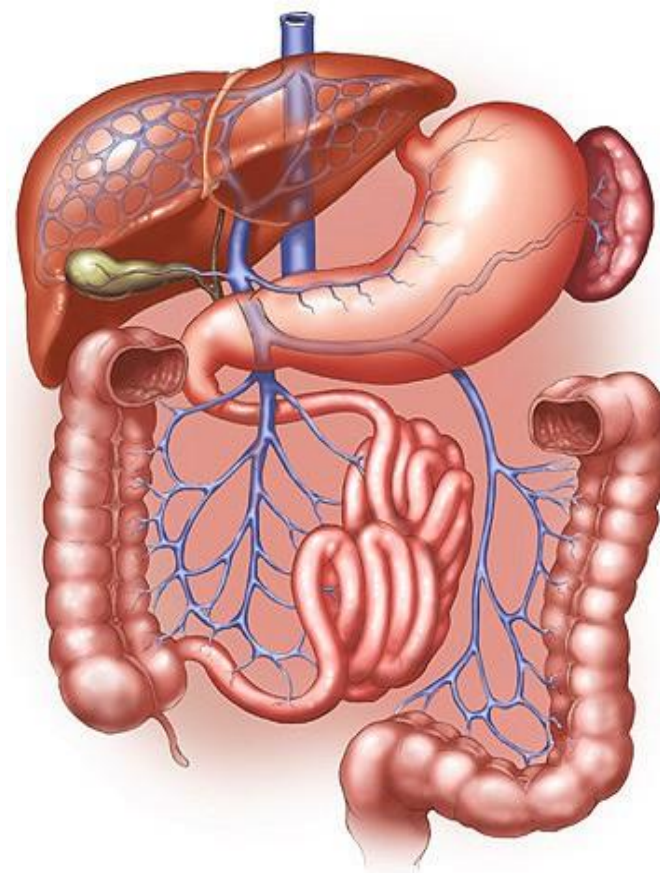


„Gremošanas orgānu sistēma un to veselība”

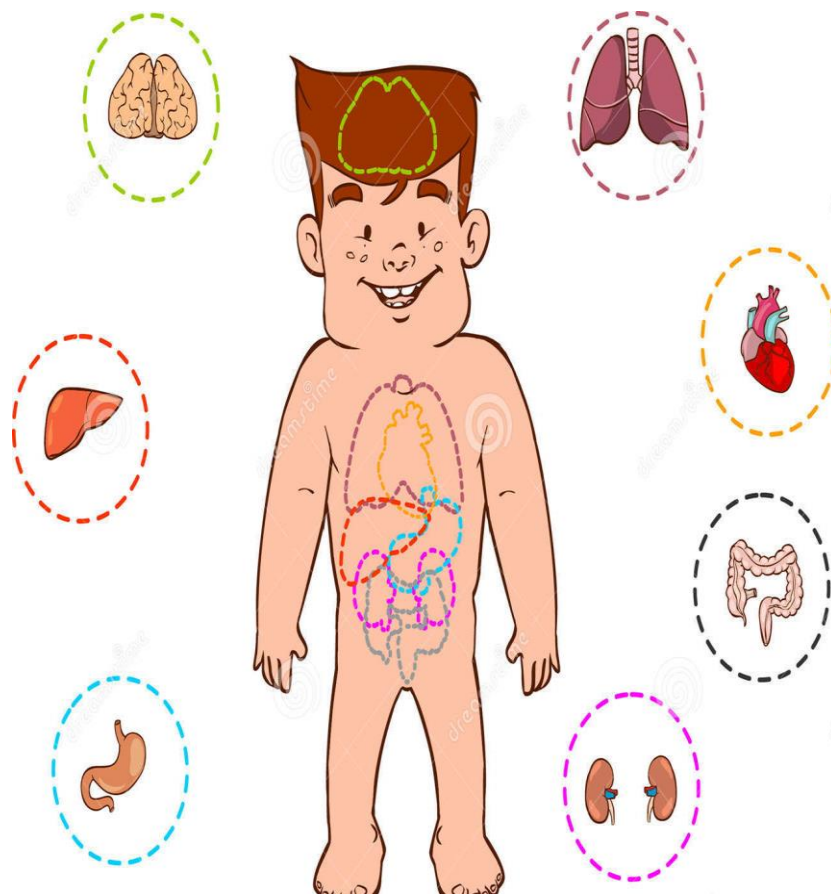
1.uzdevums. Atzīmē tikai patiesos apgalvojumus! (4p.)

- Gremošanas orgāni ir ārējie orgāni
- Gremošanas orgāni ir iekšējie orgāni
- Gremošanas orgāni piedalās elpošanā
- Gremošanas orgāni nodrošina barības sagremošanu
- Gremošanas orgānu sistēmu veido gremošanas orgāni
- Gremošanas orgānu sistēmu neveido gremošanas orgāni
- Gremošanas orgānu sistēmu veido mute, zobi, barības vads, aknas, žultspūslis, kuņģis, aizkuņģa dziedzeris un zarnas
- Gremošanas orgānu sistēmu veido mute, traheja, plaušas un bronhi

2.uzdevums. Aplūko attēlu! Kas tajā ir attēlots? Klāt pie orgāniem uzraksti to nosaukumus!(5p.)



3.uzdevums. Aplūko attēlu! Kuri ir gremošanas orgāni? Savieno tikai gremošanas orgānus ar to atrašanās vietu zēna ķermenī!(3p.)



4.uzdevums. Kas kaitē gremošanas orgānu veselībai? Uzraksti vismaz 5 nosaukumus!(5p.)

.....

.....

.....

.....

.....

5.uzdevums. Uzraksti savu veselīgo vienas dienas ēdienkarti! (3p.)

brokastis	
pusdienas	
launags	
vakariņas	

Paldies par darbu!

Novērtē sevi!

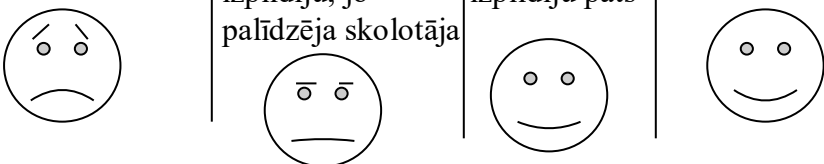
1 2 3 4 5 6 7 8 9 10

Bija ļoti grūti

Bija grūti, bet izpildīju, jo palīdzēja skolotāja

Bija grūti, bet izpildīju pats

Izpildīju pats



Tu varēji nopelnīt 20 punktu

Tu nopelnīji _____ punktus
Izstrādāja A. Viļuma